







数の大小比較

おいしいのは どれ

おうちの方へ 上の絵は、かぞえやすいように、10のまとまりがわかるようになっています。

		なまえ
がつ	にち	

とりの かずよりも おおい かずの ものの  に、  
 (まる) を つけましょう。





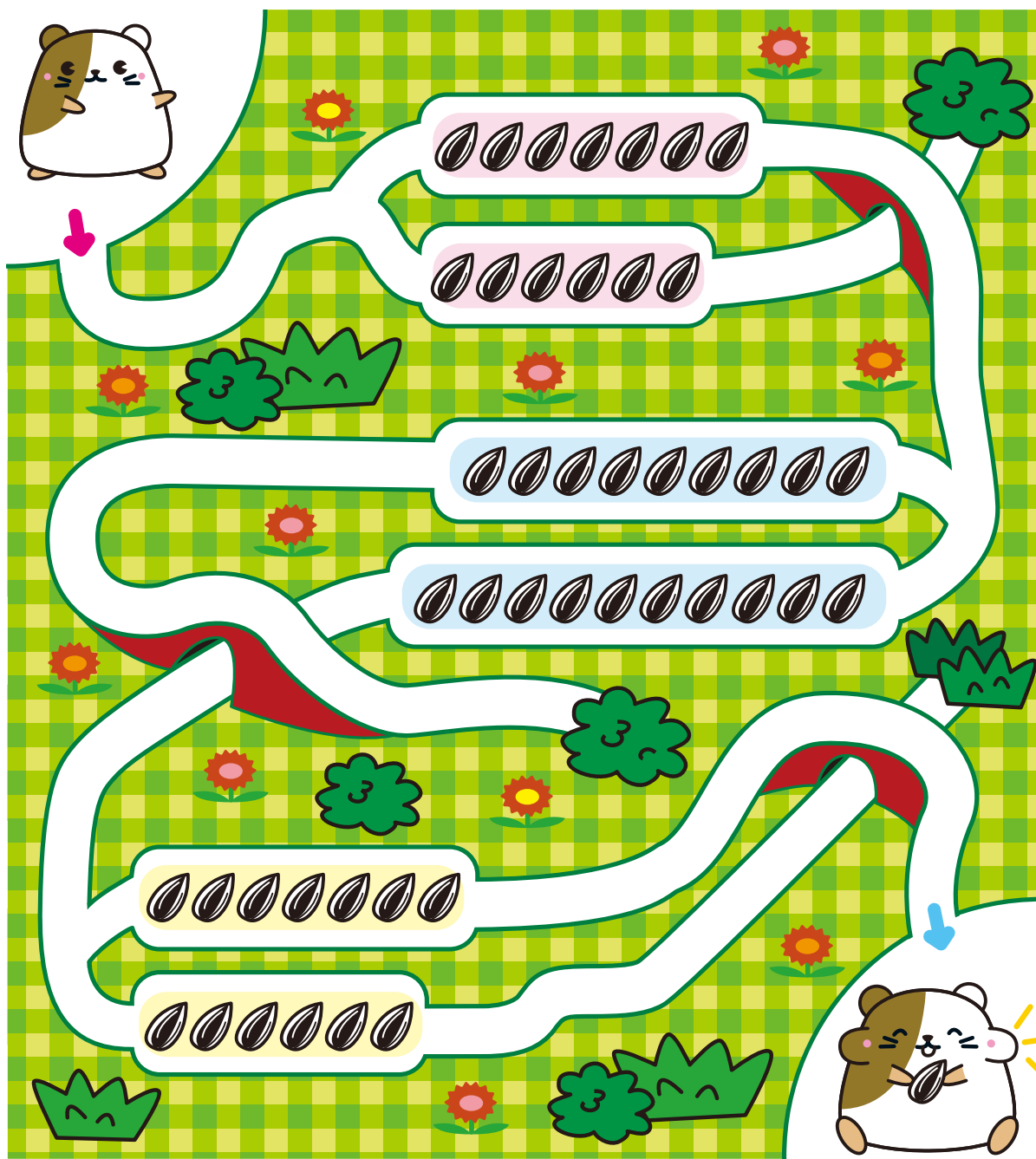
数の大小比較

おいしいのは どちら

おうちの方へ それぞれの種の数をしっかりかぞえながら、迷路を進ませてください。

		なまえ
がつ	にち	

ひまわりの たねの かずが おおい ほうの  
みちを とおって、 から まで すすみましょう。





数系列

すうじの じゆんにつなごう

がっ	にち	なまえ
----	----	-----

1から じゆんに 20まで、•を せんで つなぎましょう。





数系列

すうじの じゆんにつなごう

おうちの方へ 線をつないだあと、好きな色でぬると  
楽しいでしょう。

がつ	にち	なまえ
----	----	-----

1から じゆんに 20まで、•を せんで つなぎましょう。

