

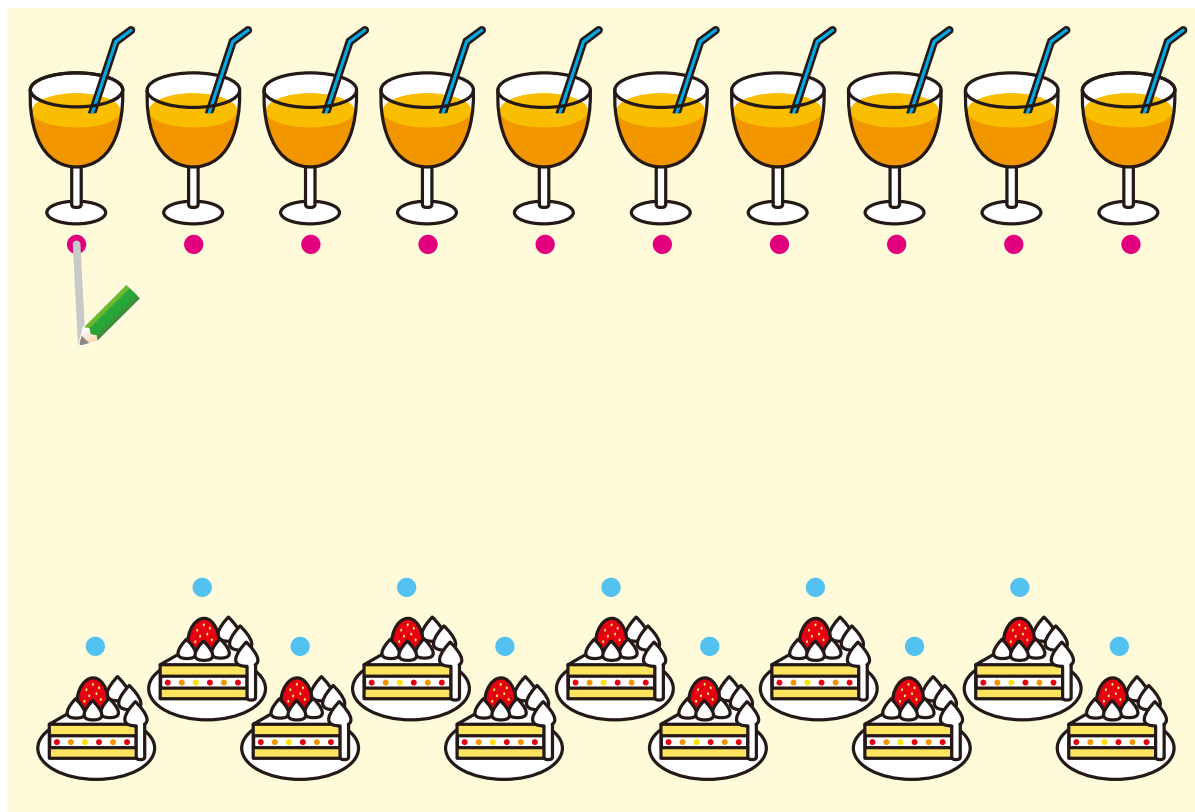


数の大小比較

かずを くらべよう

		なまえ
がつ	にち	

じゅうす と ケーキを せんで つないで、
かずに くらべましょう。



どちらの かずが おおいですか。
おいしい ほうの に、○を つけましょう。

じゅうす
ジュース

ケーキ
ケーキ



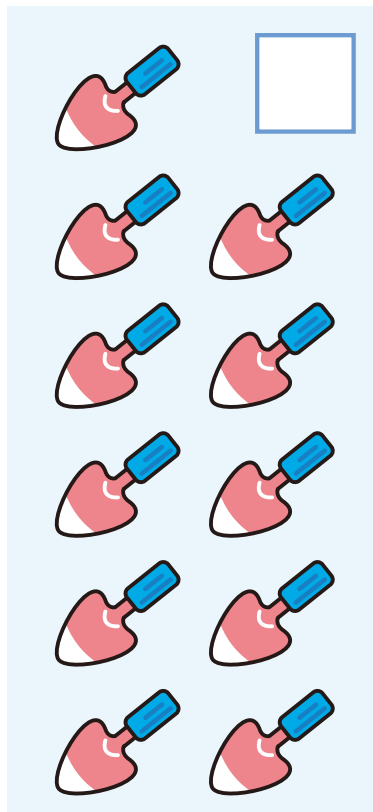

数の大小比較

おなじ かずは どれ

おうちの方へ はじめに、比べるための基になる数 (ここでは花の数)がいくつかを確認させてください。

		なまえ
がつ	にち	

はなの かずと おなじ かずの ものの に、
○(まる)を つけましょう。





数系列

すうじのじゆんにすすもう

がつ	にち	なまえ
----	----	-----

1からじゆんに12まで、めいろをすすみましょう。





数系列

すうじの じゆんにつなごう

おうちの方へ 1(いち)→2(に)→3(さん)と、声に出しながら、線をつながせてください。つないだあと、好きな色でぬると楽しいですよ。

がつ	にち	なまえ
----	----	-----

1から じゆんに 12まで、●を せんで つなぎましょう。

