



たし算


たしざん

おうちの方へ たし算の式のおけいこです。ここでは、理解を助けるため、クレヨンやボールなどの具体物を式にそえてあります。


		なまえ
がつ	にち	

たしざんを しましょう。



に すうじを かきましょう。


  
 1

+


  
 1

=

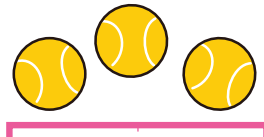

  


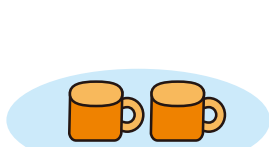
  
 2

+


  
 1

=



  


  
 2

+

  
 3

=





たし算

たしざん


		なまえ
がつ	にち	

たしざんを しましょう。


に すうじを かきましょう。



$$4 + 2 =$$



$$4 + 3 =$$



$$5 + 3 =$$



数字

すうじを かこう

		なまえ
がつ	にち	

うすい すうじを なぞりましょう。

に すうじを かきましょう。






できるかな

## すうじの じゅんに つなごう

おうちの方へ ここでは、発展として、50までの数をおいこします。「何が出てくるかな？」などと声をかけて、想像させながら、線をつなげてください。

		なまえ
がつ	にち	

1から じゅんに 50まで、•を せんで つなぎましょう。

